



Lösen Sie die nachfolgenden Aufgaben. Sie haben dafür 90 Minuten Zeit.
Für die letzte Aufgabe (8) benötigen Sie etwa 20 Minuten. Teilen Sie sich Ihre Zeit so ein, dass Sie gegen Ende **mindestens 20 Minuten** für die Aufgabe 8 haben


Aufgabe 1

Beschreiben Sie die Unterschiede zwischen den in der Tabelle dargestellten Schriftarten.

Schrift A	Schrift B
GMT 2006/2007 ABI 2009	GMT 2006/2007 ABI 2009

Aufgabe 2

Zwei Streichhölzer sind so umzulegen, dass 4 **Quadrate** entstehen.
Streichen Sie aus und zeichnen Sie ein:






Aufgabe 3

Wie wirken die nachfolgenden Strich- und Linienarten auf Sie?


Mögliche Beschreibungen sind:

aufstrebend, labil, steigend, ruhend, stützend, fallend, nach oben drängend, nach unten drängend, lastend, stabil, widerstandsfähig, leicht, herablassend, depressiv, elastisch, dynamisch, hängend, statisch.

Wählen Sie jeweils 2 für Sie zutreffende Begriffe aus.



a)



b)



c)



d)



e)



Aufgabe 4

Beispiel:

Ein asiatisches Restaurant hat an seiner Fassade ein Schild mit folgender Schrift angebracht:

CHINA

(Schriftart: Peking)

Aufgabe:

Wählen Sie die Schriftarten aus, die Ihrer Meinung nach für ein Schild an einem Blumengeschäft geeignet sind.
Begründen Sie Ihre Entscheidung.

- Arial Rounded MT Bold**
- Blackmoor I&P**
- Edwardian Script ITC*
- Helvetica Neue Light
- Rockwell Extra Bold**
- AppleGothic
- ENGRAVERS MT
- METAL LORD**
- Snell Roundhand*
- Brush Script MT*
- Futura
- Geeza Pro Bold
- Comic Sans MS

Begründung:




Aufgabe 5

Mit den folgenden Aufgaben soll das räumliche Vorstellungsvermögen überprüft werden, d.h. wie gut Sie sich Dinge anhand von Zeichnungen räumlich vorstellen können.

Sie sollen sich bei den folgenden Figuren immer überlegen, wie viele Flächen der jeweils gezeichnete Körper hat. Dabei sollen Sie auch die nicht sichtbaren Flächen mitzählen.

Bei jeder Aufgabe handelt es sich um einen einzelnen Körper.

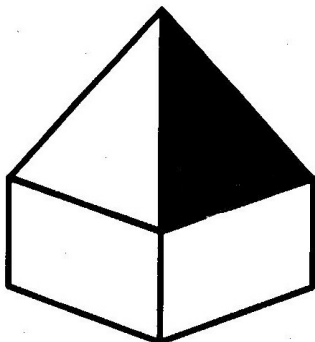
Beispiel:



Dieser Körper hat 6 Flächen.

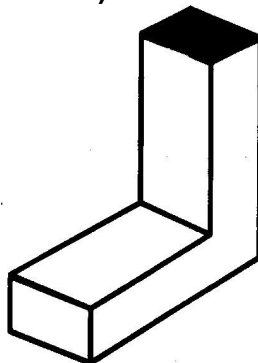
Aufgaben:

a)



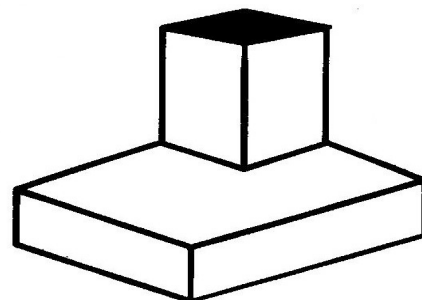
___ Flächen

b)



___ Flächen

c)

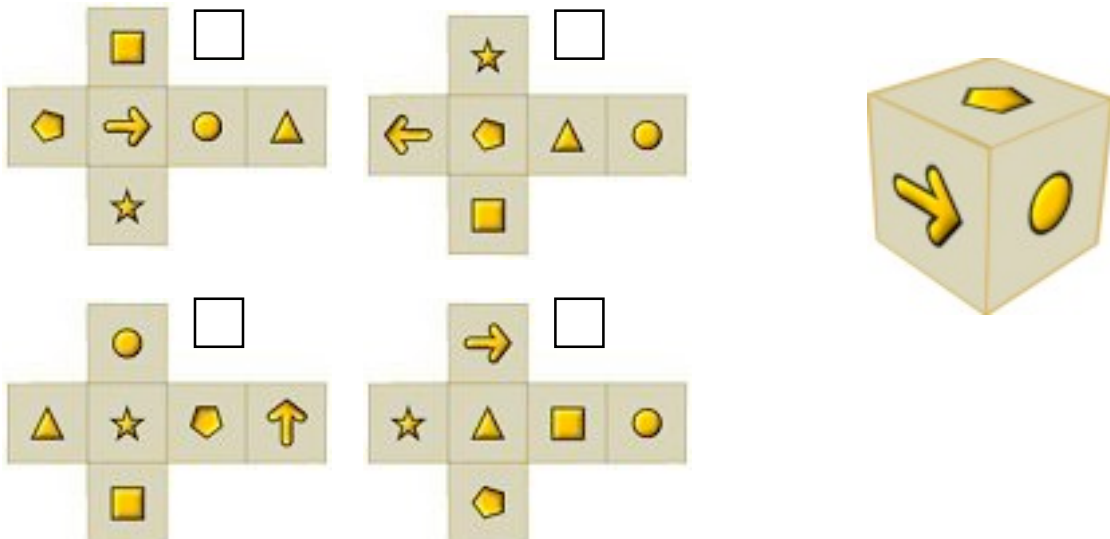


___ Flächen




Aufgabe 6

Kreuzen Sie den Bauplan an, aus welchem der Würfel entstanden ist:



Aufgabe 7

Vervollständigen Sie die Zeichnung mit Bleistift.
Es soll eine Gegenstand oder ein Tier erkennbar sein:



Aufgabe 8

Basteln Sie aus einem DIN A3 Karton einen frei stehenden dreidimensionalen Buchstaben T!
Denken Sie bei der Konstruktion an die benötigten Klebelaschen.